

利用 TI 图形计算器绘制美丽的极坐标曲线

规定有单位长度的射线 Ox , O 为极点, Ox 为极轴, 这样就建立了极坐标系. 又把平面上一点 P 到极点 O 的距离称为极径 ρ , OP 与 Ox 轴的夹角 θ 称为极角, 于是得到点 P 的极坐标为 $P(\rho, \theta)$. 在这些概念的基础上, 可得到常见曲线的极坐标方程, 如下:

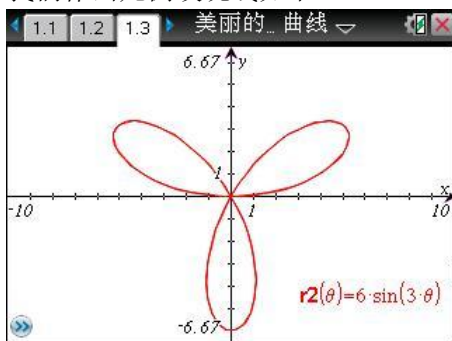
- (1) 过极点倾斜角为 α 的直线: $\theta = \alpha$ ($\rho \in R$) 或写成 $\theta = \alpha$ 及 $\theta = \alpha + \pi$;
- (2) 过 $A(a, \alpha)$ 垂直于极轴的直线: $\rho \cdot \cos \theta = a \cos \alpha$;
- (3) 以极点 O 为圆心, a 为半径的圆 ($a > 0$): $\rho = a$;
- (4) 若 $O(0,0)$, $A(2a,0)$, 以 OA 为直径的圆 ($a > 0$): $\rho = 2a \cos \theta$.

然而, 极坐标系下的曲线远不只是这些, 还有更为美丽漂亮的极坐标曲线, 下面我们借助 TI-Nspire™ CX CAS 图形计算器, 对几类常见的极坐标曲线进行绘制与赏析.

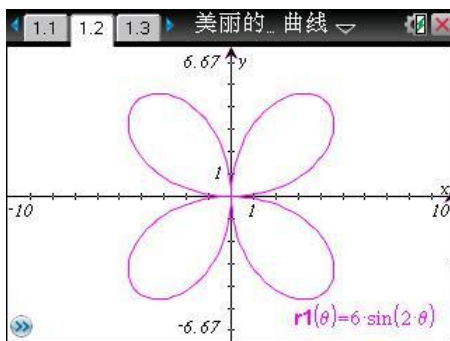
一、玫瑰线

玫瑰线(polar rose)是数学曲线中非常著名的曲线, 看上去像花瓣, 它只能用极坐标方程来描述, 方程为: $r(\theta) = a \cdot \cos k\theta$ 或 $r(\theta) = a \cdot \sin k\theta$, 其中 k 是整数, 常量 a 代表玫瑰线花瓣的长度. 当 k 是奇数时, 曲线有 k 个花瓣; 当 k 是偶数时, 曲线有 $2k$ 个花瓣.

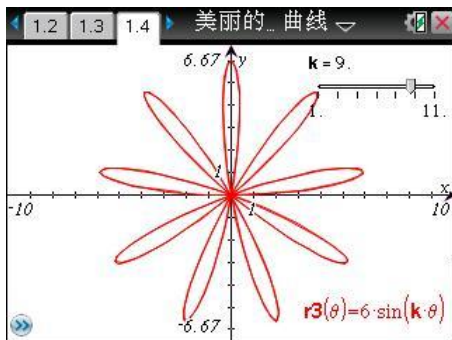
我们作出几例玫瑰线如下:



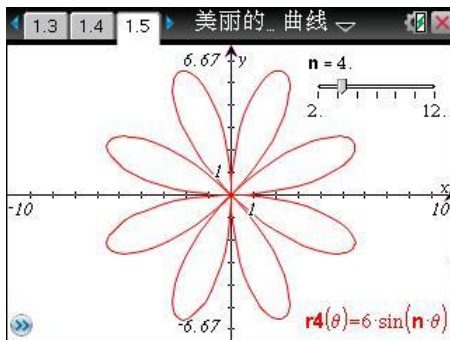
(1) 三叶玫瑰线 $r(\theta) = 6 \cdot \sin 3\theta$, $\theta \in [0, 2\pi]$



(2) 四叶玫瑰线 $r(\theta) = 6 \cdot \sin 2\theta$, $\theta \in [0, 2\pi]$




(3) k 叶玫瑰 $r(\theta) = 6 \cdot \sin k\theta$, $\theta \in [0, 2\pi]$, k 奇



(4) $2k$ 叶玫瑰 $r(\theta) = 6 \cdot \sin k\theta$, $\theta \in [0, 2\pi]$, k 偶

操作提示: 按 $\text{ctrl} \text{ (doc)} \text{ (2)}$ 添加图形页, 再按 $\text{menu} \text{ (3)} \text{ (3)}$ 选择极坐标作图, 按 $\text{ctrl} \text{ (G)}$ 可显示或隐藏输入栏, 按 m 选择常数 π ; 按 $\text{menu} \text{ (1)} \text{ (A)}$ 可插入游标, 用 $\text{ctrl} \text{ (drag)}$ 键拖动其位置, 按 $\text{ctrl} \text{ (menu)} \text{ (1)}$ 能对游标进行设置.

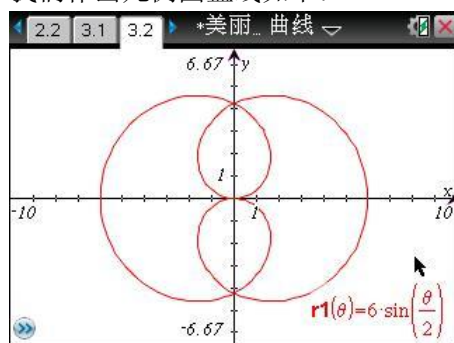
进一步作出 $r(\theta) = a \cdot \cos n\theta$ 的各种情形如下:



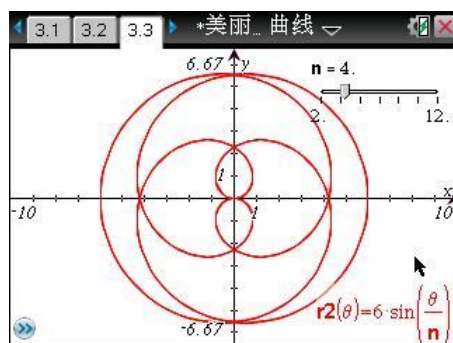
二、圆盘线

玫瑰线的极坐标方程 $r(\theta) = a \cdot \cos k\theta$ 或 $r(\theta) = a \cdot \sin k\theta$ 中, 如果 k 为非整数, 将产生圆盘(disc)状图形, 且花瓣数也为非整数.

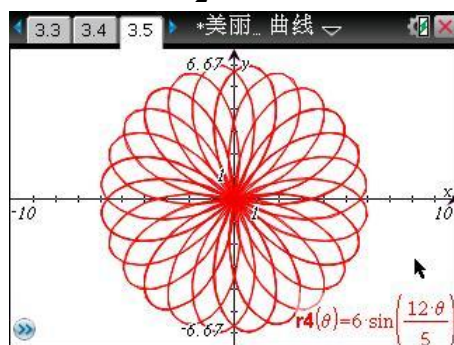
我们作出几例圆盘线如下:



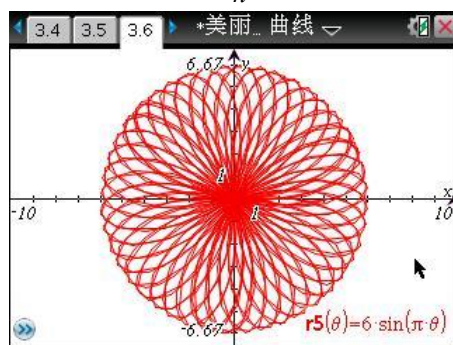
(1) $r(\theta) = 6 \cdot \sin \frac{\theta}{2}, \theta \in [0, 4\pi]$



(2) $r(\theta) = 6 \cdot \sin \frac{\theta}{n}, \theta \in [0, 24\pi]$



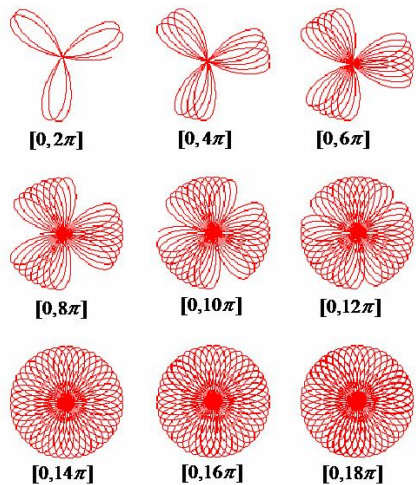
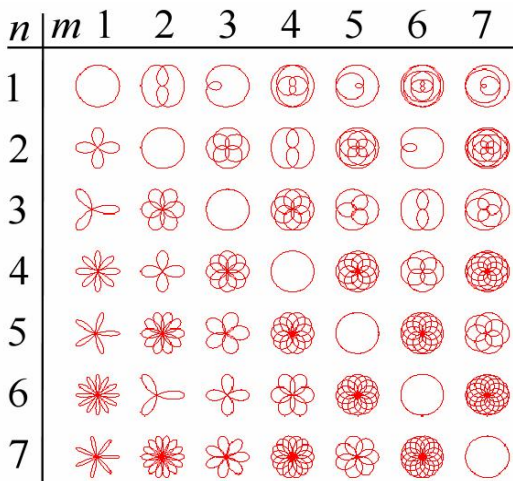
(3) $r(\theta) = 6 \cdot \sin \frac{12\theta}{5}, \theta \in [0, 10\pi]$



(4) $r(\theta) = 6 \cdot \sin \pi\theta, \theta \in [0, 30\pi],$

操作提示: 按 $\text{ctrl} + \text{doc}$ ② 添加图形页, 再按 menu ③ ③ 选择极坐标作图, 按 $\text{ctrl} + \text{G}$ 可显示或隐藏输入栏, 按 π 选择常数 π ; 按 menu ① A 可插入游标, 用 $\text{ctrl} + \text{drag}$ 键拖动其位置, 按 $\text{ctrl} + \text{menu}$ ① 能对游标进行设置; 按 $\text{ctrl} + \text{div}$ 调用分式符号.

进一步作出 $r(\theta) = \cos \frac{n\theta}{m}$ 及 $r(\theta) = 6 \cdot \sin \pi\theta$ 的各种情形如下:



(1) $r(\theta) = \cos \frac{n\theta}{m}$

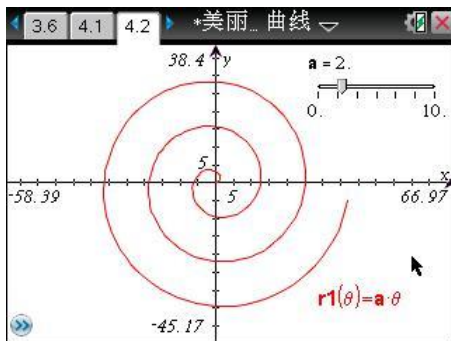
(2) $r(\theta) = 6 \cdot \sin \pi\theta$, θ 在以上各区间

三、螺线

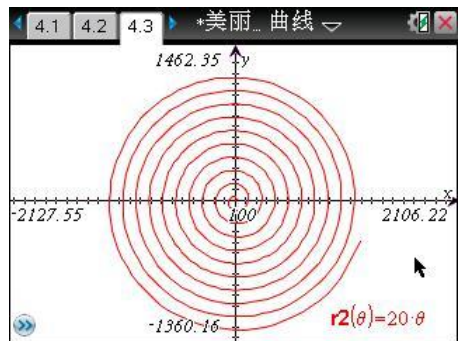
螺线即螺旋线，它可以这样定义：在平面极坐标系中，如果极径 ρ 随极角 θ 的增加而成比例增加（或减少），这样的动点所形成的轨迹叫做螺线。螺线也可以理解为由两种运动形成。设想一个虫子站在匀速旋转的圆盘之上，从圆心沿某个半径向外爬行，它的影子会在天花板上绘出一条螺线。螺线在实际生产中有一些应用，例如有些凸轮的轮廓线和三爪卡盘的轨线都是等速螺线；对数螺线在刀具的设计，航行导向等方面，也有它重要的应用。螺线有许多中，下面研究常见几种。

1. 阿基米德螺线.

阿基米德螺线又称“等速螺线”。当一点 P 沿动射线 OP 用速度 v 做等速率直线运动的同时，这条射线又以等角速度 ω 绕点 O 旋转，点 P 的轨迹称为“阿基米德螺线”，其极坐标表示式是： $r(\theta) = a\theta$ ，这里 a 为实数。阿基米德螺线在极坐标中通用方程形式是： $r(\theta) = a + b\theta$ ，改变参数 a 将改变螺线形状， b 控制螺线间距离，通常其为常量。



(1) $r(\theta) = a \cdot \theta$, $\theta \in [0, 6\pi]$



(2) $r(\theta) = 20 \cdot \theta$, $\theta \in [0, 20\pi]$

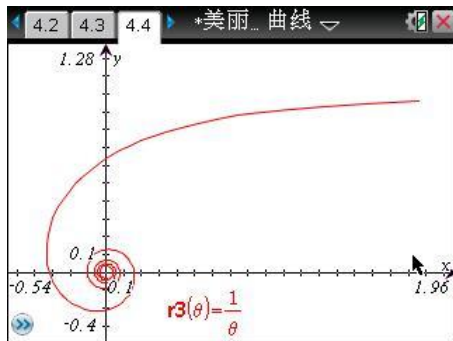
2. 渐开螺线.

渐开螺线也有许多，例如：双曲螺线，又称倒数螺线，方程形式为 $r(\theta) = \frac{a}{\theta}$ ，其中 a 为常数，它是极径与极角成反比的点的轨迹，图像的特征是有一条平行于极轴的渐

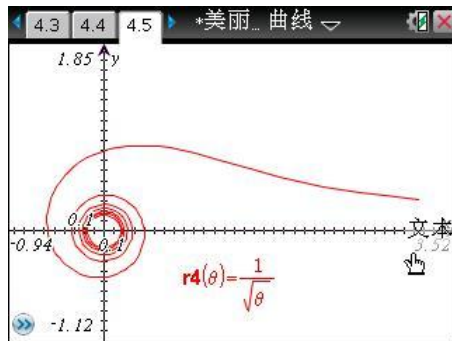
近线；连锁螺线，又称平方倒数螺线，方程形式为 $r(\theta) = \frac{a}{\sqrt{\theta}}$ ，其中 a 为常数；等角螺线，

又称对数螺线，方程形式为 $r(\theta) = e^{a\theta}$ ，其中 a 为常数。

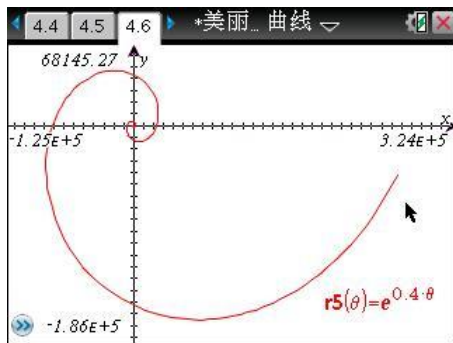
我们作出几例渐开螺线如下：



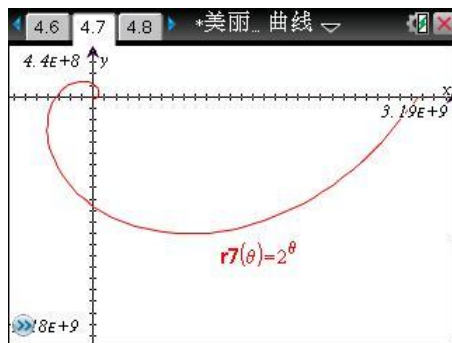
(1) 双曲螺线 $r(\theta) = \frac{1}{\theta}$, $\theta \in [0.5, 30]$



(2) 连锁螺线 $r(\theta) = \frac{1}{\sqrt{\theta}}$, $\theta \in [0.1, 40]$



(3) 等角螺线 $r(\theta) = e^{0.4\theta}$, $\theta \in [0, 10\pi]$

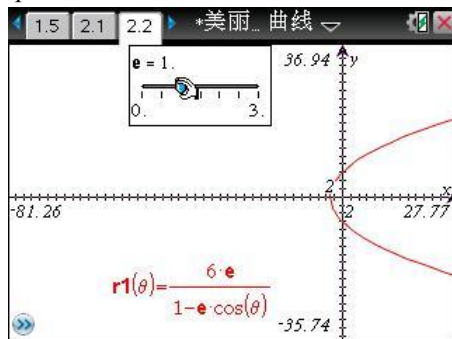
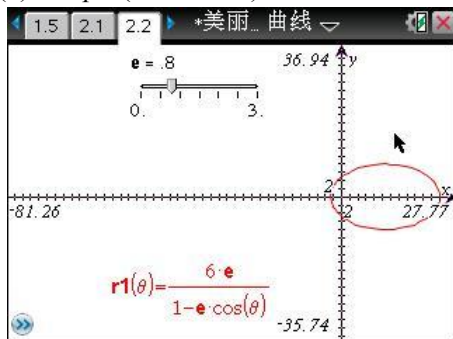


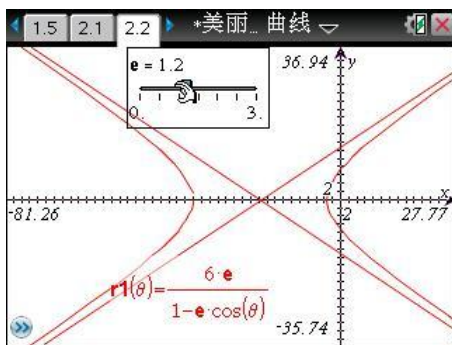
(4) 等角螺线 $r(\theta) = 2^\theta$, $\theta \in [0, 10\pi]$

操作提示：按 $\text{ctrl} + \text{doc}$ ② 添加图形页，再按 $\text{menu} + \text{3} + \text{3}$ 选择极坐标作图，按 $\text{ctrl} + \text{G}$ 可显示或隐藏输入栏；按 $\text{menu} + \text{4} + \text{A}$ 选择适合窗口或按 $\text{menu} + \text{4}$ 再选择其它窗口模式。等角螺线中， e 不是自然科学常数，而是离心率，所以不能按 $\text{ctrl} + \text{E}$ 键得到，而需要按字母键 E 。

四、圆锥曲线

圆锥曲线方程如下： $r(\theta) = \frac{l}{1 - e \cdot \cos(\theta)}$ ，其中 l 表示半径， e 表示离心率。如果 $e < 1$ ，曲线为椭圆；如果 $e = 1$ ，曲线为抛物线；如果 $e > 1$ ，则表示双曲线。方程形式也可以为 $r(\theta) = \frac{e \cdot p}{1 - e \cdot \cos(\theta)}$ ，其中 e 表示离心率， p 表示焦点到准线的距离。试看如下图：

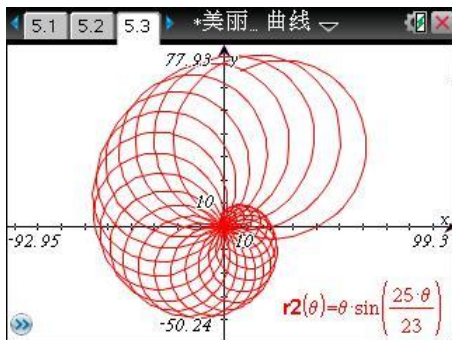




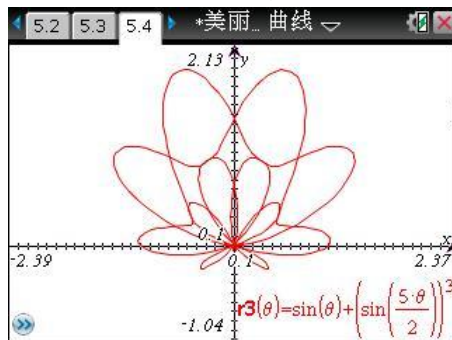
操作提示: 用 键选择游标, 指针变, 按 **Ctrl** (**menu**) **1** 对游标设置, 步长设为 0.2.

五、其它曲线

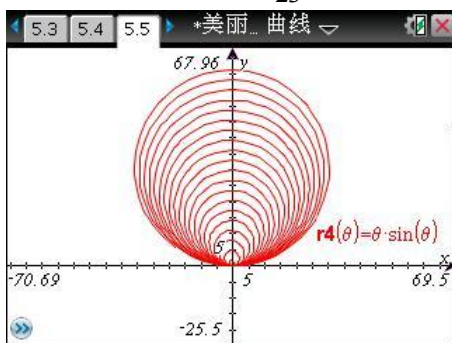
漂亮的极坐标曲线还有许多, 我们多尝试, 必然会有层出不穷的发现. 赏析几例如下:



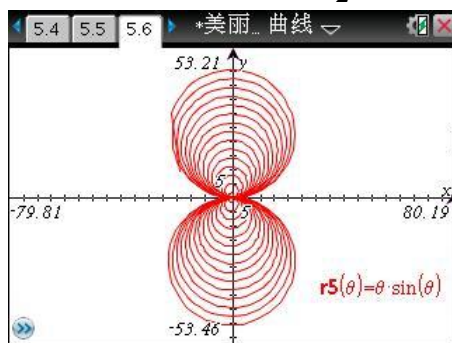
(1) 钉螺线 $r(\theta) = \theta \cdot \sin \frac{25\theta}{23}$, $\theta \in [0, 80]$



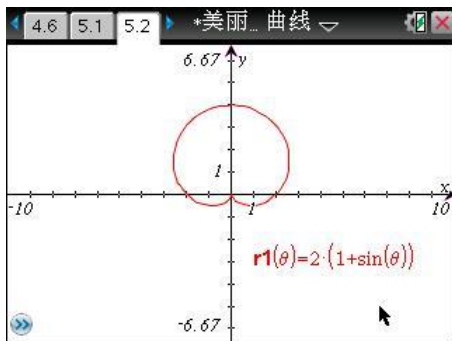
(2) 莲花线 $r(\theta) = \sin \theta + \sin^3 \frac{5\theta}{2}$, $\theta \in [0, 4\pi]$



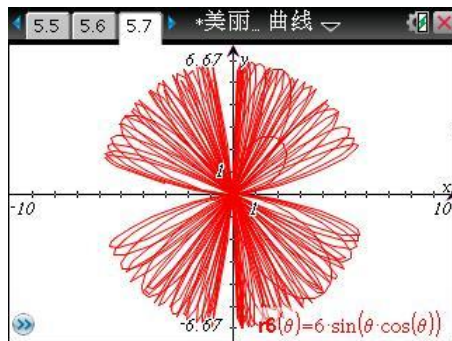
(3) 单页贝壳线 $r(\theta) = \theta \cdot \sin \theta$, $\theta \in [0, 20\pi]$



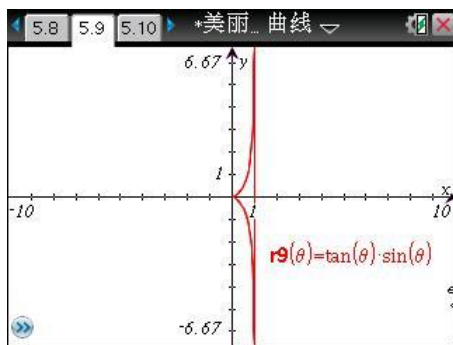
(4) 双页贝壳线 $r(\theta) = \theta \cdot \sin \theta$, $\theta \in [-15\pi, 15\pi]$



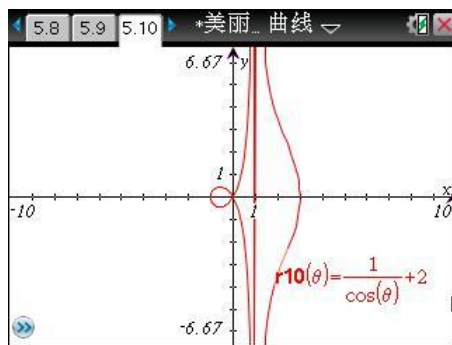
(5) 心形线 $r(\theta) = 2(1 + \sin \theta)$, $\theta \in [0, 2\pi]$



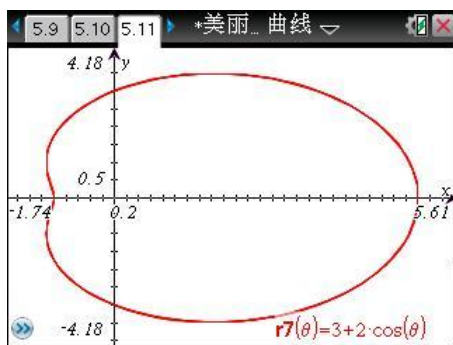
(6) $r(\theta) = 6 \sin(\theta \cdot \cos \theta)$, $\theta \in [0, 10\pi]$



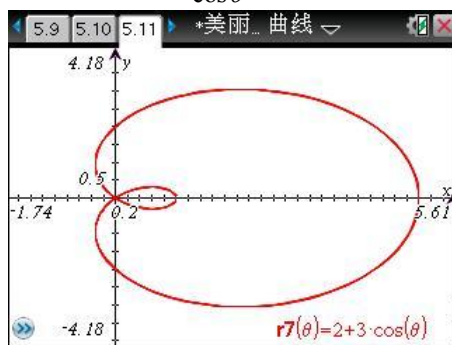
(7) 蔓叶线 $r(\theta) = \tan\theta \cdot \sin\theta$, $\theta \in [0, 2\pi]$



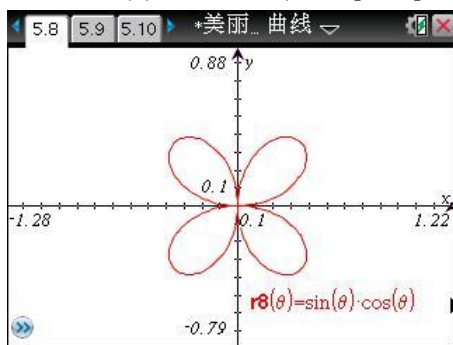
(8) 蚌线 $r(\theta) = \frac{1}{\cos\theta} + 2$, $\theta \in [0, 2\pi]$



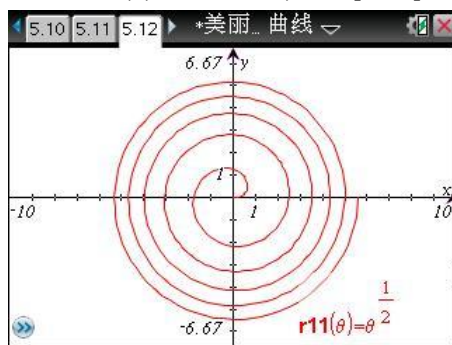
(9) 蜗线 $r(\theta) = 3 + 2\cos\theta$, $\theta \in [0, 2\pi]$



(10) 钳线 $r(\theta) = 2 + 3\cos\theta$, $\theta \in [0, 2\pi]$



(11) 四叶草线 $r(\theta) = \sin\theta \cdot \cos\theta$, $\theta \in [0, 2\pi]$



(12) 费马螺线 $r(\theta) = \theta^{\frac{1}{2}}$, $\theta \in [0, 10\pi]$

操作提示: 用 键选择图像, 指针变 , 按 (menu) 可修改曲线方程.

小结语:

高中数学学习阶段, 对极坐标的学习要求比较低, 仅限于掌握极坐标与直角坐标的互化, 掌握简单曲线(直线、圆)的极坐标方程. 笔者在此用 TI 图形计算器, 绘制了各种漂亮的极坐标曲线, 体现了数学之美, 也激发同学们升入大学进一步深入学习与研究.

(作者: 高建彪 邮箱:dsgjb@163.com, QQ:76456245 2011年5月28日完稿于中山市东升高中)

*****如果您发现了更为漂亮的极坐标曲线, 敬请将其方程形式发至邮箱, 感谢您的支持.*****